

※解答はすべて解答用紙に記入しなさい。

1 次の資料を見て、あとの問いに答えなさい。

問1 資料I中のX・Yで示した地域は、どちらも2つの県にまたがっています。X・Yで示した範囲内で北側に位置している県名を、それぞれ漢字で答えなさい。

問2 資料II中のA・Bは、資料I中のX・Yで示した地域の海岸付近のようすを表したものです。また、下の文a・bは、資料I中のX・Yで示した地域の漁業に関する説明です。Yの地域にあてはまる海岸付近のようすと漁業の説明の組み合わせとして、最も適当なものを下の表のA～Eから1つ選び、記号で答えなさい。

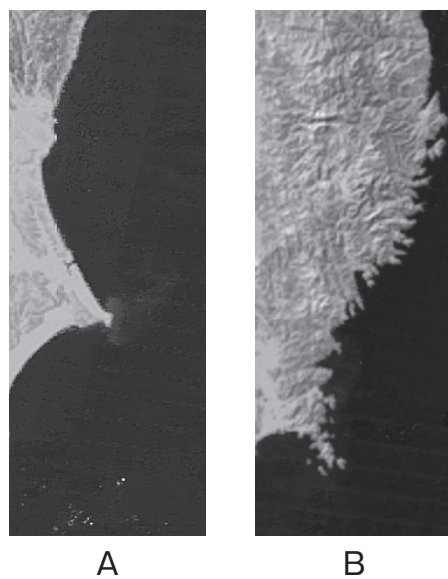
- a わかめや牡蠣かきの養殖ようしよくがさかんである。
- b 水揚量みずあげが日本で一番多い漁港がある。

	ア	イ	ウ	エ
海岸付近のようす	A	A	B	B
漁業の説明	a	b	a	b

資料I



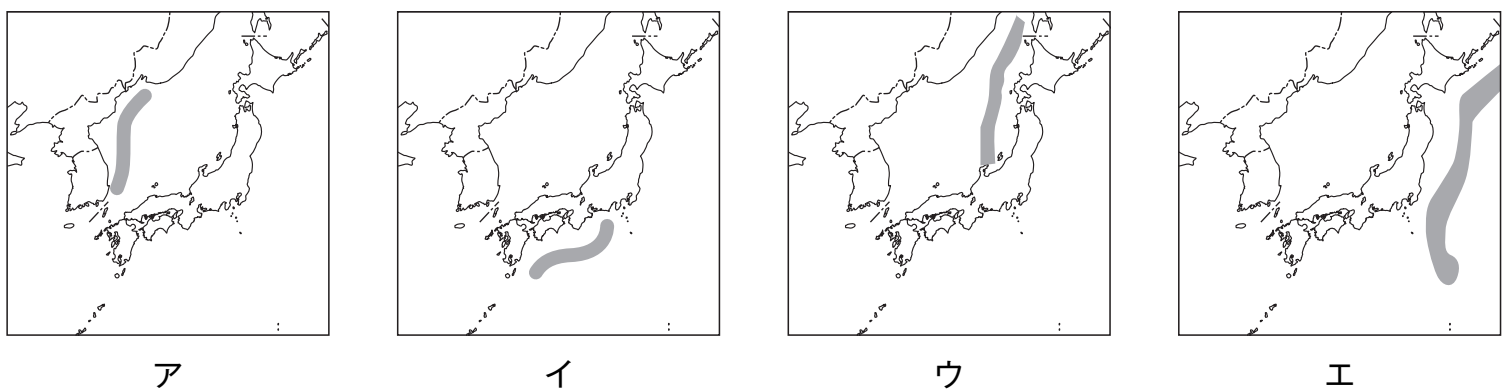
資料II 海岸付近のようす



(「地理院地図」より作成)

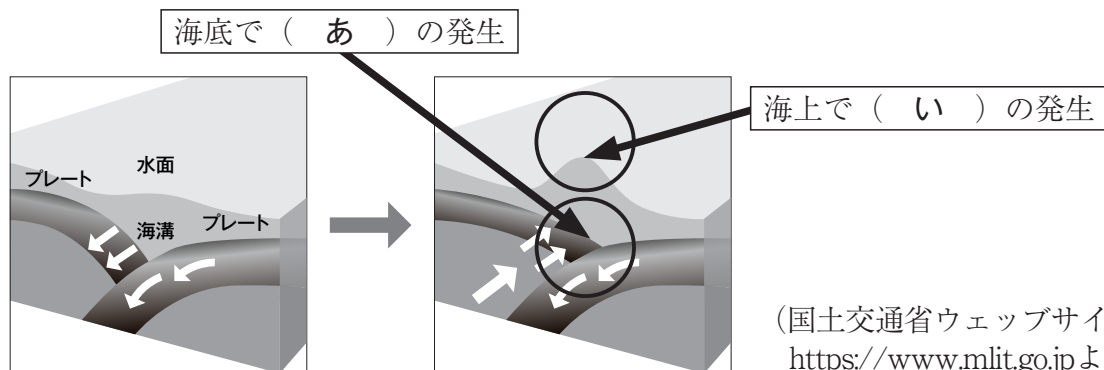
問3 資料IIIのA～Eのうちから、日本列島周辺の深さ6000m以上の海底かいこう(海溝)を で表しているものを1つ選び、記号で答えなさい。

資料III



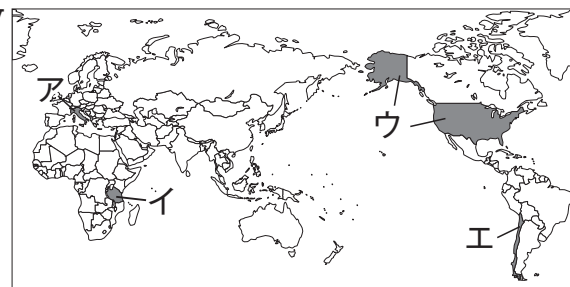
問4 資料IVは、自然災害の原因となる2つの現象が起こるしくみを表したものです。資料IV中の(あ)・(い)に入る適当な語句をそれぞれ答えなさい。

資料IV



(国土交通省ウェブサイト <https://www.mlit.go.jp>より作成)

問5 資料Vは、火山がある4つの国に色をつけたものです。資料V
日本から見てほぼ真西に位置している国をア～エから
1つ選び、記号で答えなさい。



問6 次の文章は、防災・減災のための取り組みについて述べたものです。文章中の（あ）に入る最も適切なカタカナの語句を答えなさい。また、（い）に入る語句を1つ答えなさい。

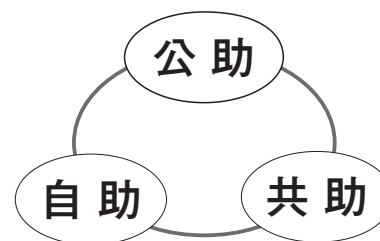
全国の市町村などは、災害による被害を軽減したり防災対策に活用したりするために、予想される災害ごとに（あ）を作成して公開しています。

例えば、洪水（あ）には、大雨などの影響で河川が氾濫した場合に浸水被害を受けるおそれのある区域や、予測される被害の程度（浸水深）が表されています。また、住民がすばやく、適切に避難するために必要な（い）の情報も表されています。

災害はいつ起きるかわかりません。自宅付近の災害リスクを（あ）を見て確認しておくことや、災害が発生した時のことを想定して（い）や連絡方法などを日頃から家族と話し合っておくことが大切です。

問7 資料VIに示された災害時の「3つの助」のうちから、小学生のあなたたち自身にできるものを、すべて選んで答えなさい。

資料VI



2 次の2つの新聞記事を読んで、あとの問いに答えなさい。

著作権の関係上、現時点では掲載しておりません。

(毎日小学生新聞 2023/6/28)

著作権の関係上、現時点では掲載しておりません。

(朝日小学生新聞2023/7/6)

問1 下線部 a について、右の写真は世界文化遺産に登録されている遺跡であり、下はこの遺跡の説明文である。

この写真の遺跡の名前を答えなさい。また、この遺跡が作られた時代名を答えなさい。



(文化庁ホームページ <https://www.bunka.go.jp>より)

この遺跡では、今から約5500年前から約1500年前にわたって、人々が暮らしていたあとが見つかっています。ここでは、クリやクルミなどの木の実は栽培していたと考えられており、自然をうまく利用した生活をしていました。また、堅穴住居や大型の堅穴建造物が作られていました。

問2 下線部 b について、日本において流域面積が一番大きい河川をア～エから1つ選び、記号で答えなさい。

- ア 信濃川 イ 石狩川 ウ 利根川 エ 北上川

問3 下線部 c に関連して、古代の日本は占いによって物事を決定していた。次の説明文に当てはまる人物の名前を答えなさい。

今から約1800年前頃にこの人物が、神のお告げを伝えて人々の心をとらえていました。実際の政治は、神のお告げをこの人物から伝え聞いた弟が行っていました。この人物については、中国の歴史書に載っています。

問4 下線部 d について、次の①と②にあてはまる日本の世界自然遺産を下のア～オのうちから1つずつ選び、それぞれ記号で答えなさい。

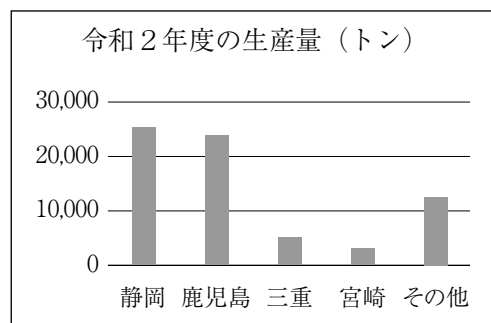
- ① イリオモテヤマネコ、ヤンバルクイナなど、絶滅危惧種95種を含む陸生動植物の生息・生育地である。
② 東アジア最大の原生的なブナ林が広がっている。また、イヌワシやクマゲラをはじめとする希少な鳥類や、カモシカやツキノワグマなどの哺乳類、約2,200種の昆虫類などが生息している。

- ア 屋久島 イ 白神山地 ウ 知床 エ 小笠原諸島
オ 奄美大島、徳之島、沖縄島北部及び西表島

問5 下線部 e について、次の写真は富士山を静岡県側から写したものである。写真手前に写っている農作物の名前を、下のグラフを参考にして答えなさい。

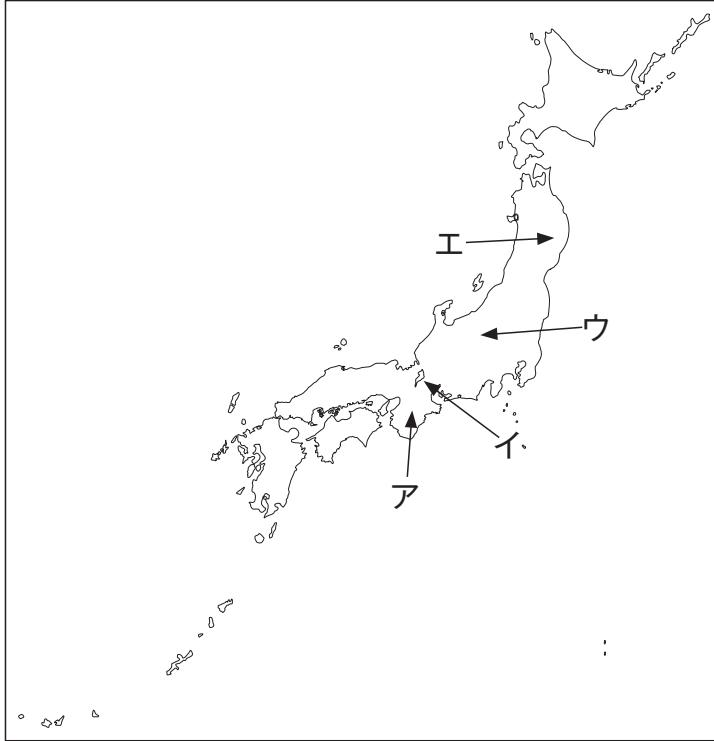


(出典：Freepikより)



(農林水産省ホームページより作成)

問6 下線部 f の場所を次の地図中のア～エのうちから1つ選び、記号で答えなさい。



問7 下線部 g について、政府（内閣）の働きとして誤っているものを次のア～エから1つ選び、記号で答えなさい。

- ア 法律案や予算案を国会に提出する。
- イ 衆議院の解散を決める。
- ウ 外国と条約を結ぶ。
- エ 最高裁判所のすべての裁判官を指名する。

問8 同じく下線部 g に関連して、三権分立を「内閣」、「国会」、「裁判所」の3つの言葉を使って説明しなさい。

3 次の①～⑦の7つのメモは、小学生のユウキさんが年代順に並べていたのですが、メモA～メモDの順序がバラバラになってしまいました。メモを読んで、あとの問いに答えなさい。

メモ

- ① 大化の改新：中大兄皇子と中臣鎌足は、645年に蘇我氏の勢力を退けて天皇中心の国づくりを行った。
- ② **メモA** : ・この人物は、平治の乱で敗れて伊豆に流された人物である。
・この人物は、朝廷に守護・地頭を置くことを認めさせた人物である。
・この人物の死後は、妻の北条政子が尼となって政治を行った。
- ③ **メモB** : ・この人物は、不安定な社会を [] の力で治めようと国ごとに国分寺を建てさせた。
・この人物は、政治を安定させるために京都・大阪・滋賀と次々に都を移した。
・この人物は、藤原不比等のむすめを后とした人物である。
- ④ **メモC** : ・この戦いの中で再襲撃に備えて福岡市に約20kmにおよぶ防塁を築いた。
・この戦いは、防衛戦であったために恩賞がもらえず竹崎季長は直接幕府に恩賞を求めた。
・一騎打ちを主としていた日本は、相手の集団戦術やてつはうなどに苦しめられた。
- ⑤ **メモD** : ・この人物は、紫式部をむすめの教育係としたことが有名で、4人のむすめを天皇のきさきとした。
・この人物の別荘を息子が建てかえさせた平等院鳳凰堂は、現在、世界文化遺産・国宝である。
・この人物は、母親の一族が権力をにぎる摂関政治が最も栄えた時に、太政大臣になった人物である。
- ⑥ 織田信長：仏教勢力に対抗するために a キリスト教を保護した。
- ⑦ 徳川家光：祖父の家康をまつる日光東照宮を大規模に建て直した。

問1 **メモA**～**メモD**を時代の古い順に並びかえなさい。

問2 **メモB**の中の []に入る語句を漢字2字で答えなさい。

問3 **メモD**の人物名を答えなさい。

問4 下線部aに関連した三人の発言の説明として最も適当なものを、次のア～エから1つ選び、記号で答えなさい。

太郎：スペインやポルトガルから宣教師がやってきて、東日本を中心にキリスト教が伝えられました。

花子：1612年より後の江戸幕府では、絵踏みなどを行ってキリスト教を厳しく取りしまりました。

良子：江戸幕府は、1641年になるとフランスと中国に限って長崎への貿易船の出入りを認めました。

ア 三人とも正しい

イ 二人が正しい

ウ 一人が正しい

エ 三人とも正しくない

問5 図1と図2はどちらも日本の伝統芸能を表している。図を参考にして、成立した時代とその名称をそれぞれ答えなさい。



図1




図2

1	問1	X	県	Y	県	問2		1	
	問3		問4	あ		い		2	
	問5		問6	あ		い		3	
	問7							4	
								5	
								6	
								7	1

2	問1	(遺跡名)	(時代名)	問2		1		
	問3		問4	①	②	2		
	問5		問6		問7		3	
	問8						4	
							5	
							6	
							7	
							8	
								2

3	問1	メモ	→	メモ	→	メモ	→	メモ	問2		1		
	問3								問4		2		
	問5	図1の時代名							名称			3	
		図2の時代名							名称			4	
											5	3	

合計	
----	--