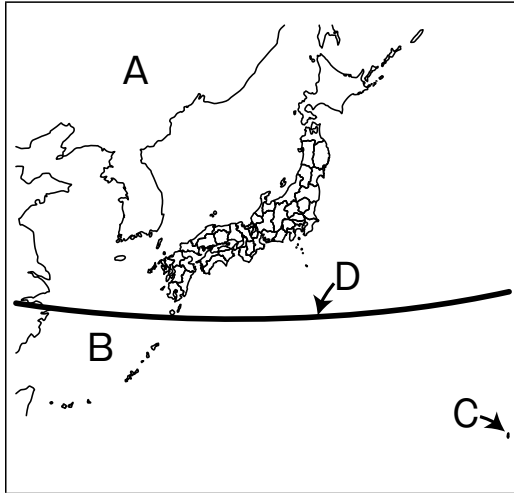


※解答はすべて解答用紙に記入しなさい。

1 次の資料Ⅰ～Ⅲを見て、あとの(1)～(5)の問いに答えなさい。

資料Ⅰ 日本とそのまわり

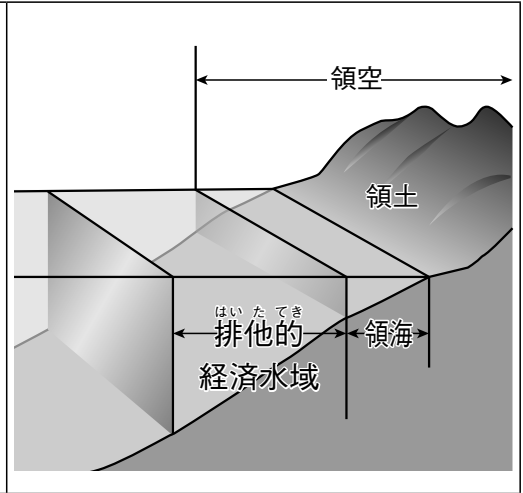


資料Ⅱ



おがさわら  
 (小笠原村ホームページより)  
 自衛隊や気象庁の職員が業務に従事するために住んでいるだけで、一般の人が住むことや訪れることはありません。

資料Ⅲ 領土・領空・領海のはんい



問1 資料Ⅰ中の大陸Aと海Bの名前をそれぞれ何というか、答えなさい。

問2 資料Ⅱは、資料Ⅰ中の島Cで示した日本の東はしに位置する島です。この島の名前を答えなさい。

問3 資料Ⅰ中の緯線Dの緯度は何度か、次のア～エから1つ選び、記号で答えなさい。

- ア 北緯50度      イ 北緯40度      ウ 北緯30度      エ 北緯20度

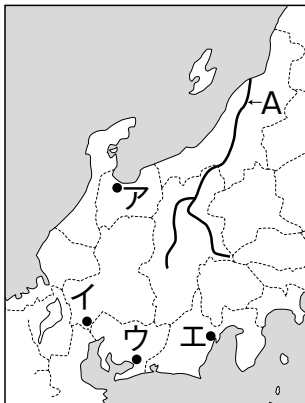
問4 資料Ⅲ中の領海のはばは国によって異なります。日本では海岸線から何海里までを領海と定めているのかを、答えなさい。

問5 海里は、船が進んだ距離や海の上の距離をあらわす単位です。1海里はどれくらいの距離であるか、次のア～エから1つ選び、記号で答えなさい。

- ア 約200m      イ 約1850m      ウ 約370km      エ 約3000km

2 次の資料Ⅰ～Ⅴを見て、あとの(1)～(7)の問いに答えなさい。

資料Ⅰ



資料Ⅱ



資料Ⅲ



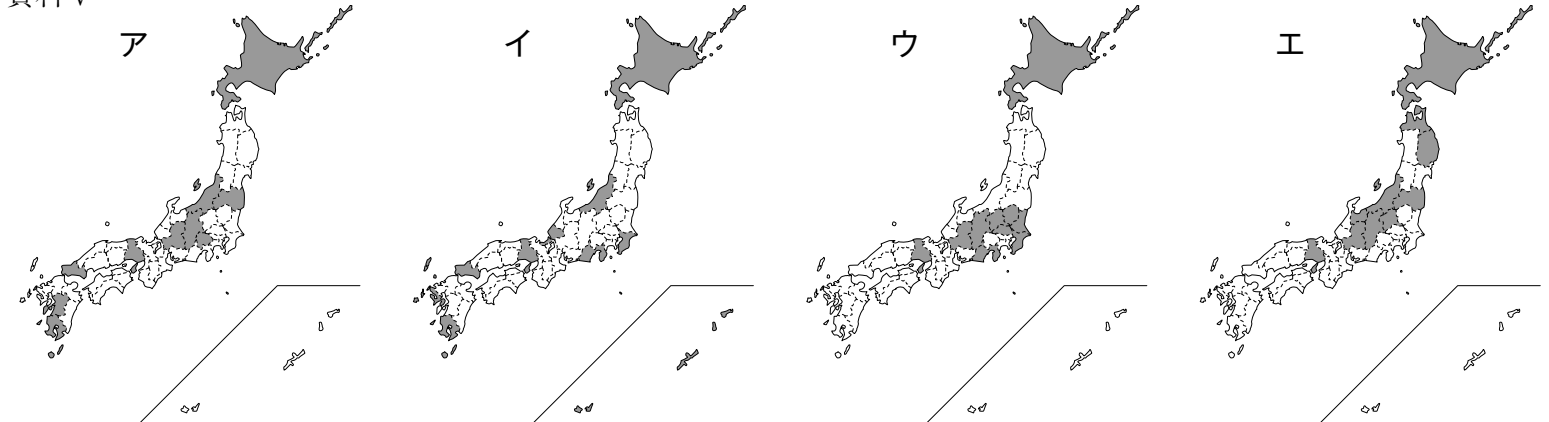
(帝国書院ホームページより)

資料Ⅳ 果物の主産地

	ぶどう	もも	りんご
1位	ア	ア	青森
2位	イ	福島	イ
3位	山形	イ	山形
4位	岡山	和歌山	岩手
5位	福岡	山形	福島

(日本国勢図会2018/19より)  
 順位は生産量(t)によるもの

資料Ⅴ



(データでみる県勢2019より)

- 問1 資料Ⅰ中の河川Aの名前を何というか、答えなさい。
- 問2 資料Ⅱ中の北陸に多くの雪を降らせる冬の季節風は、日本から見てどの方角からふいてくるのか、八方位を用いて答えなさい。
- 問3 資料Ⅱの中央高地では、内陸の気候の特色がみられます。内陸の気候の特色を、「降水量」、「気温」の語句を必ず使って説明しなさい。
- 問4 資料Ⅲの写真が撮影された場所を、資料Ⅰ中のア～エから1つ選び、記号で答えなさい。
- 問5 資料Ⅲの地域について説明した次の文章中の( A )と( B )に適する語句を、答えなさい。なお、( B )には共通の語句が入ります。

家や農地を水害から守るために村の外側を高い堤防<sup>ていぼう</sup>で囲む( A )は、江戸時代に薩摩<sup>さつま</sup>(今の鹿児島県)の武士と農民が力をあわせてつくりました。明治時代以降も大規模な( B )工事がおこなわれ、水害の数は大きく減りました。

川の流れや水路などを改良して水害を防ぎ、水をくらしや産業に利用できるようにすることを( B )といいます。

- 問6 資料Ⅳ中のアとイにあてはまる中部地方の県の名前を、答えなさい。
- 問7 資料Ⅴは、スキー場、キャンプ場、海水浴場、ゴルフ場のいずれかの数が多い上位1～10位までの都道府県を示しています。スキー場にあてはまるものを資料Ⅴ中のア～エから1つ選び、記号で答えなさい。

- 3 次の文章は新聞記事の一部である。これを読んで、下の問いに答えなさい。

アゼルバイジャンで開催中の国連教育科学文化機関(ユネスコ)第43回世界遺産委員会は6日、日本最大の( ① )墳「仁徳天皇陵古墳」(大山古墳, 堺市)を含む全49基で構成する大阪府南部の「百舌鳥・古市古墳群」を世界文化遺産に登録すると決めた。天皇や皇族が葬られたとして宮内庁が管理する「陵墓」の登録は初めて。大阪府初の世界遺産で、観光振興にも弾みがつきそうだ。

国内の世界遺産は、23件目で、登録決定は7年連続。内訳は文化遺産が19件、自然遺産が4件となる。

古墳群は、古墳時代最盛期の4世紀後半～5世紀後半、政治の中心の一つだった大阪平野に築造された。

(山陽新聞デジタル版 2019年7月6日より・一部改変)

次の会話文は、新聞記事を読んだ感想を述べたものです。

太郎：今回の登録で日本の世界文化遺産は19件目だってね。

花子：そうだね。ちなみに、日本で最初に世界文化遺産に登録されたのは何なの？

太郎：日本で最初に登録された世界文化遺産は、1993年12月に登録された、法隆寺地域の仏教建造物と近畿地方にある姫路城だよ。どちらも解体修理の手法で現在に伝えられた建造物なんだ。

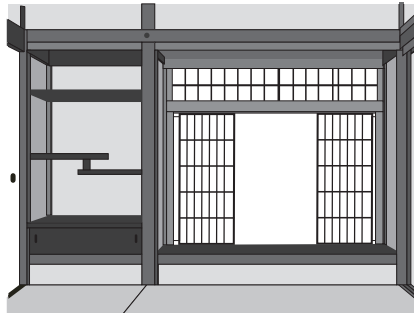
花子：昨年の「長崎と天草地方の潜伏キリシタン関連遺産」に続いて7年連続の世界文化遺産への登録は、うれしいことだね。

太郎：世界文化遺産になるということは、人類の宝になったわけなので、私たちも次の世代の人たちに伝えていかないといけないね。

問1 写真Iは世界文化遺産に登録されている慈照寺じしょうじにある建物の内部です。住宅の中で客をもてなすための専用の部屋むまのつくりとして発達し、現在の和室につながったこのつくりを何というか答えなさい。

問2 新聞記事の中の(①)に入る語句を答えなさい。

問3 次の写真IIのように、石をしきつめた古墳こふんの上に並べられたものを何というか答えなさい。



写真I (慈照寺東求堂同仁齋)



写真II

問4 会話文中の波線部なみせんぶがある九州地方について述べた次の文章を読んで問いに答えなさい。

日本の西部に位置する九州地方の気候は、比較的小温暖ひかくてきですが台風たいふうの通り道となることが多いので降水量は多いです。北部には比較的なだらかな(①)山地があり、中央部には高く険しい九州山地があります。九州山地を代表する山として阿蘇山あそがありますが、阿蘇山は火山活動が活発なこととともに、世界最大規模の(②)があることでも有名です。

a九州地方の農業の特徴は、熊本平野や八代平野で行われているb二毛作ふけさくや、宮崎平野で行われている促成栽培そくせいさいばいが挙げられます。

また、工業の特徴として明治時代の(③)戦争の後に、官営の(④)が作られたことで北九州工業地帯の基礎きそがきずかれました。ここに(④)が作られたのは、原料となる鉄鉱石の輸入先である中国に近かったことと、周辺に(⑤)が産出されていたことが原因です。

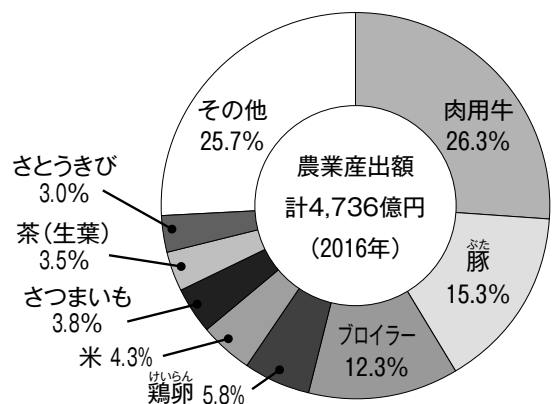
(1) 文章中の(①)～(⑤)に当てはまる語句を答えなさい。

(2) 下線部aについて、右のグラフが示している都道府県を、

ア～エから選びなさい。

- ア 佐賀県
- イ 福岡県
- ウ 大分県
- エ 鹿児島県

(3) 下線部bを説明しなさい。



4 日本てんかんてんの歴史の大きな転換点となるできごとを、4枚のカードにまとめてみた。カードを見て、以下の問いに答えなさい。

A【                   】

とよとみひでよし  
豊臣秀吉の死後、多くの大名を味方につけ、自分に反対する大名たちを破って全国支配を確実にしました。

B【                   】

ちやうてい  
朝廷は幕府をたおす命令を全国にだしましたが、結集した武士たちは朝廷を打ち破りました。

C【                   】

ちやうせん  
朝鮮をめぐる日本とロシアの対立が深まっていき、大きな戦争となりましたが、日本は何とか勝利しました。

D【                   】

そが  
蘇我氏をたおし、中国で学んできた留学生とともに、天皇を中心とする新しい国づくりをはじめました。

問1 A~Dのカードの【           】にあてはまるできごとをそれぞれ何というか答えなさい。

問2 A~Dのカードの時代に関するものを、次のア~エから1つずつ選び、記号で答えなさい。

ア

イ

ウ

エ



問3 A~Dのカードを古い順番にならべかえなさい。

問4 A~Dのカード以外にもう1枚作るとしたら、あなたはどのできごとを取り上げますか。あなたが考えるカードを1枚作りなさい。

受験番号

# 社会解答用紙

(5枚のうちの5枚め)

中B方式
令2

1	問1	大陸A	海B	問2	
	問3		問4	海里	問5

1
---

2	問1		問2		
	問3				
	問4		問5	A	B
	問6	ア	イ	問7	

2
---

3	問1		問2		問3	
	問4	(1) ①	②	③		
		④	⑤	(2)		
		(3)				

3
---

4	問1	A	B	C	D
	問2	A	B	C	D
	問3	→	→	→	
	問4	【  】			

4
---

合計	
----	--