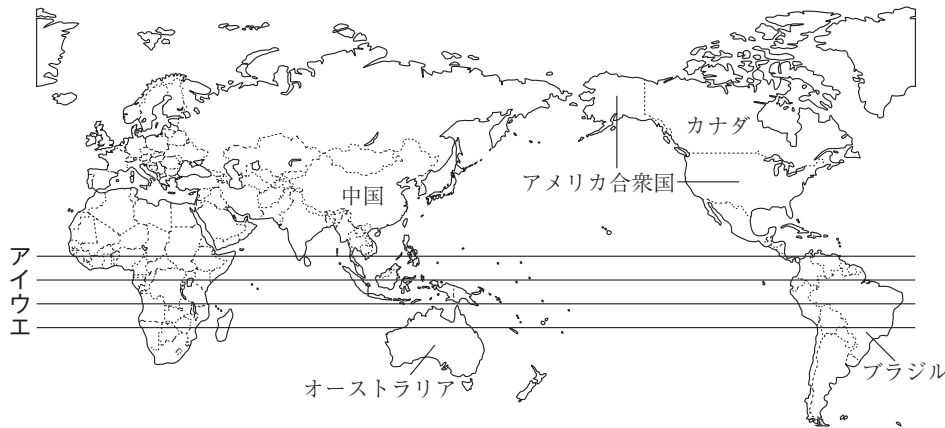


※解答はすべて解答用紙に記入しなさい。

1 次の資料Ⅰ～Ⅵを見て、あとの問いに答えなさい。

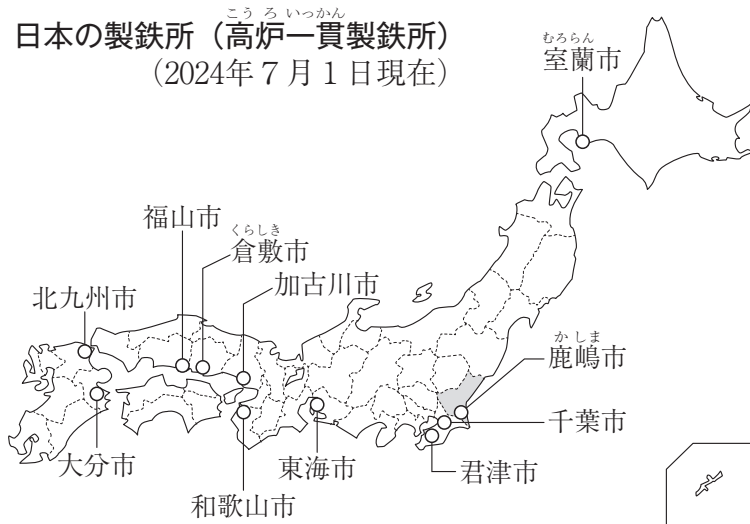
資料Ⅰ 世界地図



資料Ⅱ 製鉄所の位置

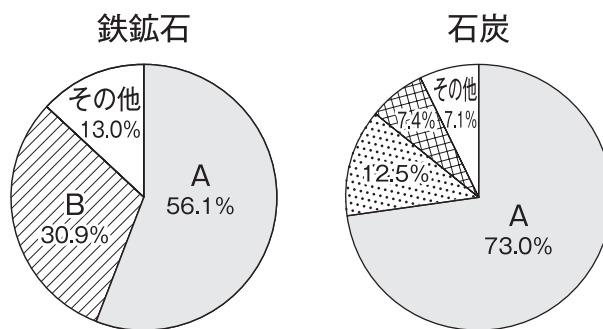


資料Ⅲ 日本の製鉄所（高炉一貫製鉄所）
(2024年7月1日現在)



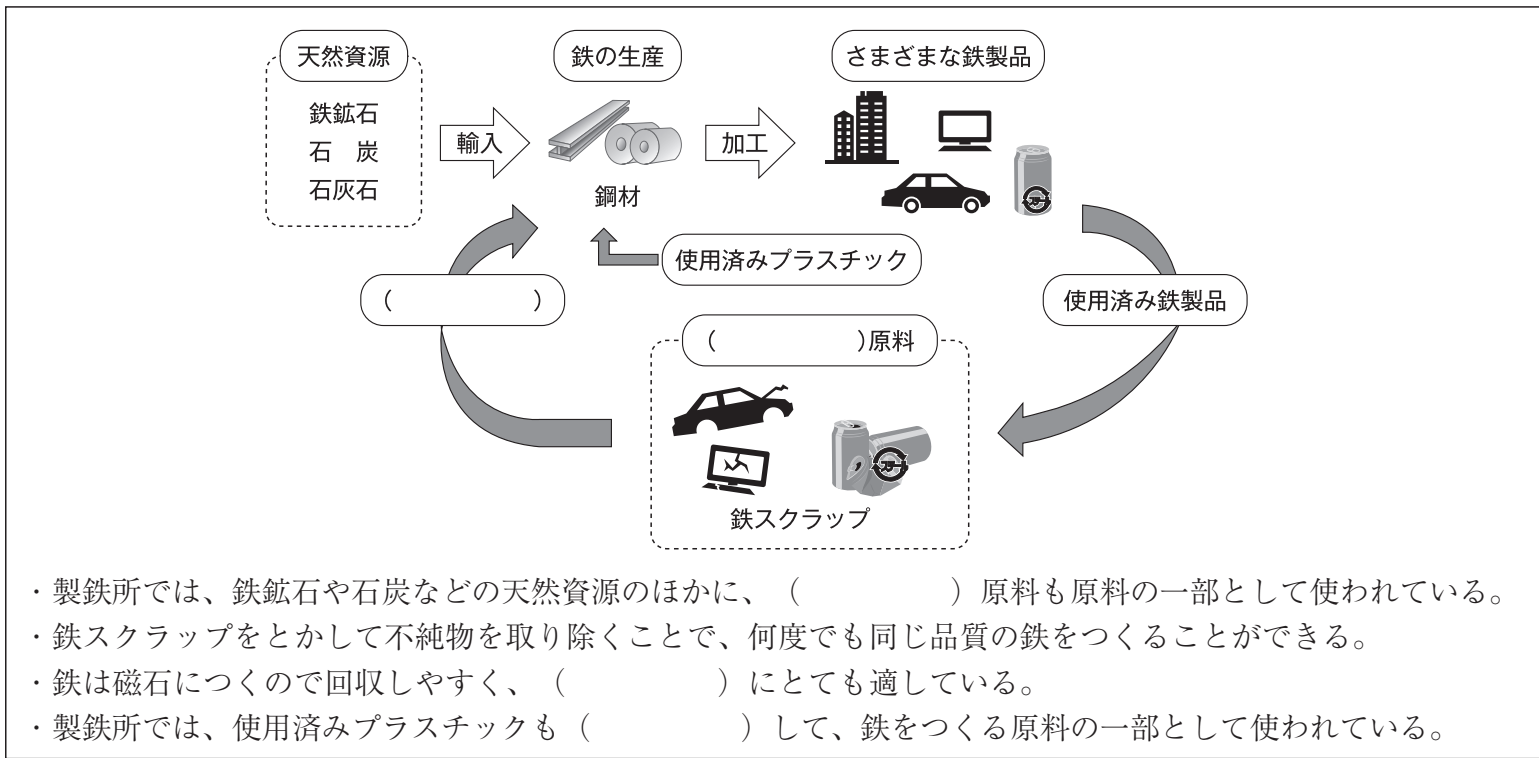
※地名は製鉄所がある市の名前
(矢野恒太記念会『日本のすがた2025』より作成)

資料Ⅳ 日本の鉄鋼業の原料輸入先 (2023年度)



(矢野恒太記念会『日本のすがた2025』より作成)

資料Ⅴ 鉄生産の流れ

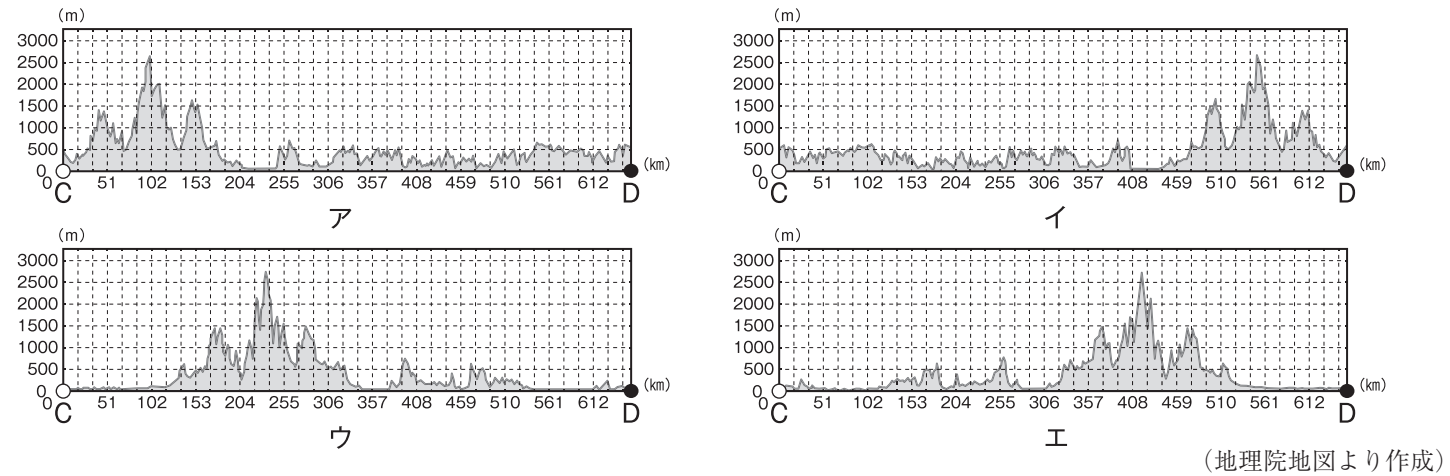


資料Ⅵ 自動車に使われる鋼板について

日本の製鉄所では高品質で高性能な鋼材がつくられています。なかでも、自動車に多く使われている「高張力鋼板」をつくる技術では、世界をリードしています。自動車用の「高張力鋼板」は、薄くて強いので、部品を軽量化できます。自動車の車体などに使う鋼板の強度を上げることは衝突安全性の向上につながり、自動車の車体を軽くすることは地球環境を守ることに繋がります。自動車には、ほかにも高性能な鉄製品がいろいろ使われています。

- 問1 資料Ⅰ中の緯線ア～エから赤道にあてはまるものを1つ選び、記号で答えなさい。
- 問2 資料Ⅱ中の線A～Bは、室蘭市にある製鉄所（A）から大分市にある製鉄所（B）まで自動車を使って移動する場合の経路（フェリーによる移動を含む）を示しています。この経路に沿ってAからBへ移動する場合の距離はおよそ2000kmです。これは赤道に沿って地球を一周した場合の何分の1の距離にあたりますか、次のア～エから1つ選び、記号で答えなさい。
- ア 10分の1 イ 16分の1 ウ 20分の1 エ 32分の1

- 問3 資料Ⅱ中の直線C～Dは、倉敷市にある製鉄所（C）と鹿嶋市にある製鉄所（D）を結んだものです。直線C～Dに沿った地形断面図にあてはまるものを、次のア～エから1つ選び、記号で答えなさい。



- 問4 資料Ⅲを見て、次の文の（ あ ）にあてはまる県名を漢字で、（ い ）にあてはまる語句を6字で、それぞれ答えなさい。

日本の製鉄所（高炉一貫製鉄所）は、北海道の室蘭市を除いて、鹿嶋市のある（ あ ）県から福岡県・大分県にかけての（ い ）とよばれる日本国内の工業生産の中心地域の中にあります。

- 問5 工業は種類別に、せんい工業、食料品工業、金属工業、化学工業、機械工業、その他の工業に分けられます。近年の日本国内の工業生産について、次のA～Cの文の正誤の組み合わせとして正しいものを、下の表のA～クから1つ選び、記号で答えなさい。
- A 工業種類別では、金属工業、化学工業、機械工業、食料品工業、せんい工業の順で工業生産額が多い。
- B せんい工業と食料品工業では、中小工場の工業生産額が大工場の工業生産額を大きく上回っている。
- C 50年前に比べて国内の工場数が半分以下に減っているため、国内の工業生産額も半分以下に減っている。

	ア	イ	ウ	エ	オ	カ	キ	ク
A	正しい	正しい	正しい	正しい	誤り	誤り	誤り	誤り
B	正しい	正しい	誤り	誤り	誤り	誤り	正しい	正しい
C	正しい	誤り	正しい	誤り	誤り	正しい	誤り	正しい

- 問6 資料Ⅳ中のA・Bには、資料Ⅰの世界地図中に示した中国、アメリカ合衆国、カナダ、オーストラリア、ブラジルのいずれかの国が入ります。A・Bに入る国名の組み合わせとして正しいものを、次のア～カのうちから1つ選び、記号で答えなさい。

	ア	イ	ウ	エ	オ	カ
A	中国	中国	アメリカ合衆国	アメリカ合衆国	オーストラリア	オーストラリア
B	カナダ	ブラジル	カナダ	ブラジル	カナダ	ブラジル

- 問7 資料Ⅴの図中と文中にある（ ）にはすべて同じ語句が入ります。（ ）に入る最も適当な語句を、カタカナで答えなさい。
- 問8 資料Ⅵの下線部について、自動車の車体を軽くすることが地球環境を守ることにつながる理由を、40字前後で説明しなさい。

- 2
- I. 日本の世界文化遺産をテーマに、ツバサさんとサクラさんがメモをつくり歴史を学んでいます。あとの問いに答えなさい。

メモA	1993年に世界文化遺産登録。1333年に幕府への反乱に加わった赤松則村が小さな城を築き、関ヶ原合戦後に幕府は西日本の大名を警戒して池田輝政を城主にした。その後も、幕府の拠点として本多忠政が城主となった。
メモB	1998年に世界文化遺産登録。天皇の住まいである内廷と、儀式や役人が仕事を行う外廷でできていて約120ヘクタールの広さと5メートルの壁で囲まれている。東の方には東院庭園があり、現在の日本庭園の原型となった。
メモC	1999年に世界文化遺産登録。日光山は8世紀以降に修験者が集まる山岳信仰の聖地となり、室町時代には日光修験が最盛期となった。その後、亡くなった人の霊をまつる場所である東照社がつくられた。本人である「あ」の希望により「東照大権現」と呼ばれる神となり、まつられることで注目を浴びた。世界文化遺産登録の理由としては、江戸時代において最高の建築技術であり、日本の亡くなった人の霊をまつる建築において大きな影響を与えたことがあげられる。
メモD	1993年に世界文化遺産登録。飛鳥時代に建てられた世界最古の木造建造物で、日本で最初の世界文化遺産に登録された。聖徳太子と推古天皇によって建てられたとされている。
メモE	2011年に世界文化遺産登録。12世紀初めに奥州藤原氏の清衡が建てた寺院とされ、大陸から伝わった仏教が日本の自然崇拝とまじりあった。戦乱の世に平和を願って建てられ「極楽浄土」を表現したものである。また、壇ノ浦で平氏を攻めほろぼした人物が藤原泰衡に攻められてこの地で亡くなった。
メモF	1996年に世界文化遺産登録。日本三景の1つである「安芸の宮島」を代表する建築物で、飛鳥時代に仏教とともに神道も重要とされ自然崇拝の対象となっていたものを、平安時代に「い」が海上交通の安全から現在のものをつくった。
メモG	2000年に世界文化遺産登録。第二次世界大戦中に焼失したが、柱・壁・瓦などが朱色で再建された。しかし、2019年に正殿などが火災で焼失し、現在も復興作業が進められている。
メモH	2007年に世界文化遺産登録。戦国時代後期から江戸時代前期にかけて日本で最も銀がとられ、最盛期には世界の銀産出量の約3分の1を日本がしめていた。地元では、地名から大森とも呼ばれている。
メモI	1995年に世界文化遺産登録。五箇山と共に、日本独自の建築様式である合掌造りの家の集落で、冬の雪が多く降る時期には茅葺き屋根に積もった雪がとても美しく人気である。
メモJ	1994年に世界文化遺産登録。その美しさと歴史的価値で知られる日本でも有名な観光地。この寺院は780年につくられたとされ、平安時代から多くの人々に愛され、舞台からは市内や木々に囲まれた山々が見わたせて、春の桜や秋のもみじの季節に美しい景色が広がる。

問1 メモA～Jに書かれている世界文化遺産名を次の語群から選び、ア～コの記号でそれぞれ答えなさい。

語群：ア. 白川郷	イ. 平城宮跡	ウ. 中尊寺	エ. 清水寺	オ. 巖島神社
カ. 法隆寺	キ. 日光東照宮	ク. 石見銀山遺跡	ケ. 姫路城	コ. 首里城跡

問2 メモCの中の「あ」に入る人物を答えなさい。

問3 メモFの中の「い」に入る人物を答えなさい。

問4 メモEの下線部に関連して、この人物を答えなさい。

問5 メモA～Jに書かれている世界文化遺産のうち2つが同じ都道府県にある。その都道府県名を答えなさい。

II. クイズ好きなツバサさんが「世紀」に着目して問題を考えました。あとの問いに答えなさい。

問6 次の①が起こった世紀から②が起こった世紀を引いた数字のクイズに答えなさい。

＊例：①20世紀－②19世紀＝1世紀なのでクイズ1を答える。(①11世紀－②8世紀＝3世紀なのでクイズ3を答える。)

① 743年に、世界を大仏の光で照らすことを願い、金堂の大仏を多くの人たちの協力を集めてつくるよう聖武天皇が大仏造立の詔を出した。

② 645年に、天皇をしのぐ勢力となった蘇我氏を、中大兄皇子と中臣鎌足が天皇を中心とする国づくりをするためにたおした。

クイズ1. 摂関政治で権力を持ち、世の中が自分の思い通りになる「もち月の歌」をよむほどに大きな力を持った人物はだれか？

クイズ2. 恩賞がもらえなかったと幕府に直接うったえ、『蒙古襲来絵詞』に描かれた人物はだれか？

クイズ3. 狩猟採集中心の生活をしていた縄文時代に豊作を祈るまじないとしてつくられ、女性の姿をしているものは何か？

クイズ4. 天保の大ききんの時に大商人から米などを取り上げるなど、苦しい人々のために大阪で反乱を起こした人物はだれか？

3 次の会話文を読んで、あとの問いに答えなさい。

サクラ：おはよう。久しぶりだね。今日から2学期が始まるね。

ツバサ：おはよう。始まるね。夏休みはどう過ごしていたの。どこかに行ったのかな？

サクラ：お父さんの実家に行ったよ。a 岡山から飛行機に乗って東京に行ったんだ。

ツバサさんはどこかに行ったの？

ツバサ：b 大阪・関西万博に行ってきたよ。c いろいろな国や国際機関のパビリオンを見てきたよ。

サクラ：それはうらやましい。何が一番印象に残った？

ツバサ：一番印象に残ったのは、世界の料理が食べられたことかなあ。

サクラ：さすが食いしん坊^{ぼう}のツバサさんだね。どこの国の料理が一番おいしかった？

ツバサ：どこの料理も特徴^{とくちょう}があっておいしかったけど、やっぱり日本の和食が一番だね。

サクラ：和食を食べなれているからかもしれないね。ちなみに和食って「ユネスコの無形文化遺産」に登録されているんだよね。正確に言うと「日本人の伝統的な d 食文化」として登録されているんだよ。

ツバサ：そうなんだ。知らなかったよ。

サクラ：平成25（2013）年のニュースの記事があるから見ようよ。

著作権の関係上掲載していません

(2013/12/16 Yahoo!ニュースオリジナル THE PAGE 一部改 <https://news.yahoo.co.jp/articles/495cf390377adf131b6aa6355246fe82c7448a32>)

ツバサ：なるほど。でも和食文化ってどんなものなのかな。

サクラ：農林水産省のホームページにその説明があるよ。

「和食」の4つの特徴

(1) 多様^{しんぜん}で新鮮な食材とその持ち味の尊重

日本の国土は南北に長く、海、山、里と表情豊かな自然が広がっているため、各地で地域に根差した多様な食材が用いられています。また、素材の味わい^いを活かす調理技術・調理道具が発達しています。

(2) 健康的な食生活を支える栄養バランス

一汁三菜^{いちじゅうさんさい}を基本とする日本の食事スタイルは理想的な栄養バランスと言われています。また、「うま味」を上手に使うことによって動物性油脂の少ない食生活を実現しており、日本人の長寿^{ちやうじゅ}や肥満防止に役立っています。

(3) 自然の美しさや季節の移ろいの表現

食事の場で、自然の美しさや四季の移ろいを表現することも特徴のひとつです。季節の花や葉などで料理を飾りつけたり、季節に合った調度品や器^{うつわ}を利用したりして、季節感を楽しみます。

(4) 正月などの年中行事との密接な関わり

日本の食文化は、h 年中行事と密接に関わって育まれてきました。自然の恵み^{めぐみ}である「食」を分け合い、食の時間を共にすることで、家族や地域^{きずな}の絆を深めてきました。

(農林水産省ウェブサイト <https://www.maff.go.jp/j/keikaku/syokubunka/ich/>)

ツバサ：そうなんだ。日々の生活とすごく関係があるんだね。

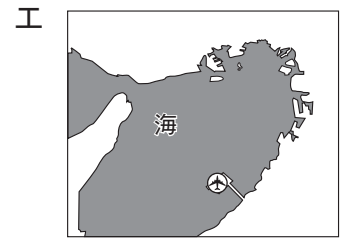
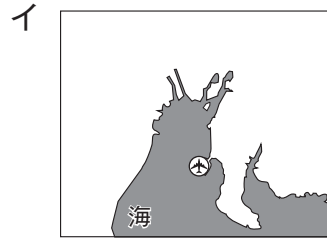
サクラ：でも、日々の生活と関係があるのは和食だけではないと思うよ。どこの国の料理も日々の生活ととても関係がある「文化」だと思うな。

ツバサ：これからいろいろな国の料理を食べるときは、その国や地域の人たちの生活を想像しながら食べてみようかな。

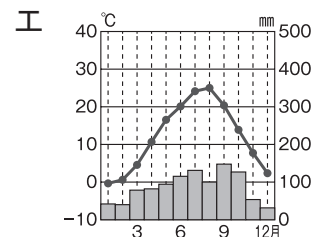
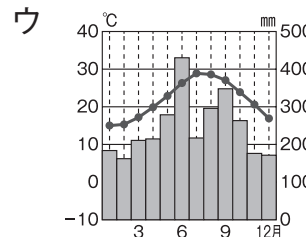
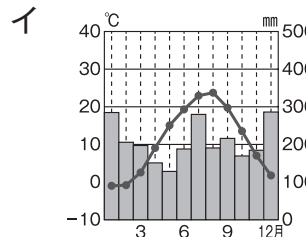
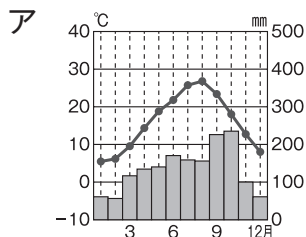
問1 下線部 a に関連して、次の問いに答えなさい。

(1) サクラさんが飛行機で降りた空港を次のア～エから1つ選び、記号で答えなさい。

※地図中の ⊕ が空港をあらわしている。



(2) 東京の雨温図を次のア～エから1つ選び、記号で答えなさい。



(気象庁「各種データ・資料」より作成)

問2 下線部 b に関連して、次の文章は大阪と関係の深い人物について説明したものである。

この人物は、尾張（愛知県）の身分の低い武士の子として生まれました。しかし、（ア）に仕えて有力な武将になりました。この人物は、（ア）の死後すぐに（イ）を倒し、その後全国の大名を従え、（ア）の死後8年で天下統一を成しとげました。

また、この人物は、全国に家来を派遣して、村ごとに（ウ）を行い、田畑の面積を測りました。

(1) 文章中の空欄ア～ウに入る語句を答えなさい。

(2) この人物を答えなさい。

問3 下線部 c に関連して、次のⅠ・Ⅱの国の国旗を下のア～エからそれぞれ選び、記号で答えなさい。

Ⅰ この国にあるエッフェル塔やベルサイユ宮殿などには世界中から多くの人々が観光にやってくる。また2024年に開催されたオリンピックにも多くの人たちが観戦にやってきました。

Ⅱ この国は古代文明の栄えた地域であり、ピラミッドやスフィンクスなどを見るために多くの観光客がやってくる。



問4 下線部 d に関連して、次の【 】は米作りが本格的に始まり、各地に広がっていった時代の人々が食べていた食事のメニューです。この時代は何時代か答えなさい。

【 赤米のごはん 煮ただいこんと大豆 焼いたアユ アサリの煮物 】

問5 下線部 e に関連して、次の問いに答えなさい。

(1) 農林水産省は内閣の役所である。内閣総理大臣と各省の大臣が行う会議の名称を答えなさい。

(2) 内閣は、国会で作られた法律をもとに政治を行っている。次のア～ウは国会で作られた「国民の祝日に関する法律」によって定められた祝日である。祝日の名称をそれぞれ答えなさい。

ア 5月3日

イ 9月の第3月曜日

ウ 11月3日

問6 下線部 f に関連して、右の写真は室町時代に足利義満の保護を受けた父子が完成させた能の一場面である。この父子の名前を答えなさい。



問7 下線部 g に関連して、古墳時代に中国や朝鮮半島から移り住み、紙や筆などの作り方や漢字や仏教などの新しい文化を伝えた人たちを何というか。

問8 下線部 h の年中行事とは、毎年決まった時期に行われる儀式や行事のことである。年中行事と月の組合せとして誤っているものを次のア～エから1つ選び、記号で答えなさい。

ア 七草がゆ－1月

イ 端午の節句－5月

ウ お盆－6月

エ 大みそか－12月

