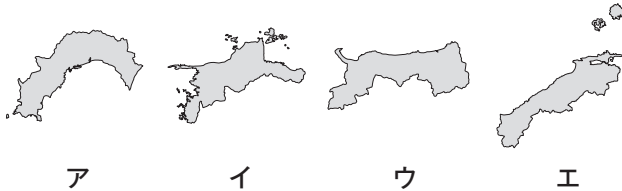


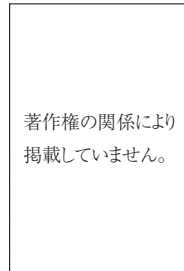
※解答はすべて解答用紙に記入しなさい。

1 次の資料I～VIを見て、あとの問1～問6に答えなさい。

資料I



資料II 蒸留塔じょうりゅうとう




みずしませいゆしよしょうかい (水島製油所紹介パンフレットより)

資料III 石油の使われ方

- ・ものを動かすための燃料として
- ・熱を生み出すための燃料として
- ・工業製品の  として

資料IV 日本の石炭・原油・天然ガス(液化天然ガス)の輸入先(2019年)



(日本国勢図会2020/21から作成)

問1 資料Iは海に面した4つの県の形を示しています。島根県の形にあてはまるものを、資料Iのア～エから1つ選び、記号で答えなさい。

問2 資料IIは、石油コンビナートの中に見られる蒸留塔とよばれる施設しせつです。蒸留塔の説明として、最も適当なものを、次のア～エから1つ選び、記号で答えなさい。

- ア 地下の地層にたまっている原油を採り出すための施設
- イ タンカーで運ばれてきた原油をためておくための施設
- ウ 原油を分解してさまざまな石油製品を作るための施設
- エ 石油を燃やして蒸気をつくり発電を行うための施設

問3 石油には大きくわけて3つの使われ方があります。資料III中の  にあてはまる語句を答えなさい。

問4 資料IVのA～Cは、日本の石炭、原油、天然ガスのいずれかの輸入先を示しています。原油と天然ガスの輸入先の組み合わせとして正しいものを、次のア～カから1つ選び、記号で答えなさい。

- ア 原油－A                      天然ガス－B                      イ 原油－A                      天然ガス－C
- ウ 原油－B                      天然ガス－A                      エ 原油－B                      天然ガス－C
- オ 原油－C                      天然ガス－A                      カ 原油－C                      天然ガス－B

問5 次の資料Vは高知県の野菜栽培さいばいについて説明したものです。石油の値段が高くなると、高知県の野菜栽培農家にとってどのような負担が増えると考えられますか。高知県の野菜栽培の特徴とくちょうをふまえたうえで、「トラックの燃料代にかかる費用が高くなってしまう」のように答えなさい。

資料V

高知県では早くから近畿地方きんきや関東地方などの遠くにある大市場しゆつかに向けて、野菜を生産し出荷してきました。暖かい気候を利用して、ほかの産地の野菜が出回らない時期に値段の高いなすやピーマンなどを出荷することができるので、輸送費がかかっても利益が出ます。

問6 次の資料Ⅵを見て、(1)と(2)の各問いに答えなさい。

資料Ⅵ 日本の貿易品の内訳と変化

輸出				輸入			
1935年 24億9907万円	5.7 %	6.5 %	繊維・繊維製品 (生糸)155(綿織物)19.9 60.0	1935年 24億7224万円	9.5	6.4	食料品 9.5 金属・金属製品 16.0 繊維原料・繊維製品 (綿花)28.9(羊毛)7.8 39.2 その他 28.9
1975年 16兆5453億円	(自動車) 11.1	(船舶) 10.8	機械類 53.8 金属・金属製品 (鉄鋼)18.2 22.4 6.7	1975年 17兆1700億円	15.2	34.0	原油 7.4 10.5 4.9 28.0
2017年 78兆2865億円	(自動車) 15.1	(船舶) 1.8	60.8 7.6 1.0 30.6	2017年 75兆3792億円	8.2	9.5	機械類 29.8 5.1 1.3 46.1

(帝国書院『新詳地理B』(令和2年)より)

- (1) 近年の日本の貿易の特徴として資料Ⅵから読み取れる内容として、正しいものを、次のア・イから1つ選び、記号で答えなさい。
- ア 以前に比べて、近年は加工貿易の特徴が強まってきている。  
イ 以前に比べて、近年は加工貿易の特徴が弱まってきている。
- (2) 日本の貿易の特徴が変化している理由を、「日本の会社」「アジアの国々」という語句を使って簡単に説明しなさい。

2 次の文章は新聞記事の一部です。これとそのあとの会話文を読んで、あとの問1～問8に答えなさい。

「ハンセン病家族訴訟、控訴せず」  
～首相表明 人権侵害で苦しい思い～

国のまちがった隔離政策で差別を受けたとして、ハンセン病の患者の家族への賠償を国に命じた熊本地方裁判所の先月28日の判決について、首相は9日、控訴(判決に納得がいかず上級裁判所に再審査を求めること)をしないと発表しました。家族が人権侵害で苦しい思いをしてきたことを考え、判決を受け入れました。ハンセン病は確実に治り、感染力も弱いとわかったあとも、国は1996年まで患者を療養施設に隔離する政策を続け、元患者の家族561人が国に損害賠償と謝罪を求める集団訴訟を起こしました。

(朝日小学生新聞 2019年7月10日)

- 太郎：この記事にあるハンセン病という病気を知っていますか。
- 花子：病気の名前は聞いたことがありますが、詳しくはわかりません。病気を理由に、最近まで差別をされてきた人たちがいたのですね。
- 太郎：ハンセン病は古くから知られ、恐れられてきた病気の一つです。日本でも、らい病ともよばれて、a 8世紀につくられた「日本書紀」にも記録が残されています。また、b 鎌倉時代にもハンセン病患者のための施設が作られています。明治時代に入ると隔離政策がとられるようになり、隔離は戦後も続いてハンセン病患者の人権が大きく侵害されました。
- 花子：そんなに長い間かわいそうですね。療養所のことは聞いたことがあります。岡山の長島愛生園などですね。
- 太郎：そうですね、他にもc 北は青森県・宮城県から南は鹿児島県・沖縄県まで国立の療養所が13カ所あります。療養所では家族と離れ離れで生活しなくてはならないなど人権を侵害され続けていきました。この記事の前にd 熊本地方裁判所が2001年に初めて国とe 国会の責任を認める判決を出しましたね。
- 花子：この記事によると患者の家族も差別を受けたことが認められたのですね。憲法で定められていても、「( X )の尊重」が十分に守られていないことは他にもあると思います。これからも差別や人権侵害はいつ起こるかわからないので、f みんなが平和に平等に生活できるよう、差別を許さず解決していこうとする態度が必要ですね。

問1 下線部 a について、「日本書紀」が作られたころの内容として、正しいものを、次のア～エから1つ選び、記号で答えなさい。

- ア 大仙古墳など大きな前方後円墳がつくられる  
イ 天皇が都を奈良の平城京に移す  
ウ 菅原道真の意見により遣唐使を廃止する  
エ 藤原頼通により平等院鳳凰堂がつくられる

問2 下線部 b について、鎌倉時代の武士に関する事柄のカードをつくりました。4枚のカードの中で、あまり関わりのないものはどれか、次のア～エから1つ選び、記号で答えなさい。

ア	イ	ウ	エ
九州に攻めてきたモンゴル軍と戦って幕府を守った。	御家人とよばれる武士たちは地方の守護や地頭に任命されていた。	源氏の将軍がとだえてから、幕府を守るために朝廷の軍と戦った。	当時の武士たちは弓や鉄砲などの武芸の鍛錬にはげんだ。

問3 下線部 c の地域について、(1)～(3)の各問いに答えなさい。

(1) 青森県と宮城県に関わりのある事柄の組み合わせとして、正しいものを、次のア～エから1つ選び、記号で答えなさい。

- ア 青森県：会津塗 宮城県：七夕まつり  
イ 青森県：会津塗 宮城県：ねぶた祭  
ウ 青森県：津軽塗 宮城県：七夕まつり  
エ 青森県：津軽塗 宮城県：ねぶた祭

(2) 右の地図に示すAの島は、「縄文杉」に代表される豊かな自然が残されていることが評価され、世界自然遺産に登録されています。島の名前を答えなさい。



(3) 沖縄県には、かつて何という王国があったか答えなさい。

問4 下線部 d について、裁判所や裁判について述べた文として、正しいものを、次のア～エから1つ選び、記号で答えなさい。

- ア 国会議員の中から選ばれた裁判員が重大事件について参加する裁判員制度が導入されている。  
イ 裁判は合計2回まで受けることができるので、一度出された判決が変わることもある。  
ウ 裁判所は争いごとや犯罪を解決するだけでなく、国が決めた法律も憲法に違反していないかを判断できる。  
エ 裁判所には種類があり、各都道府県に地方裁判所と高等裁判所が設置されている。

問5 下線部 e について、国会のしくみとして、誤っているものを、次のア～エから1つ選び、記号で答えなさい。

- ア 内閣総理大臣を指名する  
イ 最高裁判所の長官を指名する  
ウ 裁判官を辞めさせるかどうかの裁判をする  
エ 海外と結んだ条約を承認する

問6 会話文中の空欄 ( X ) にあてはまる、日本国憲法が保障している、人が生まれながらに等しく持っている権利を何というか答えなさい。

問7 日本国憲法に定められている国民の権利として、誤っているものを、次のア～エから1つ選び、記号で答えなさい。

- ア 働く人が団結する  
イ 言論や集会を行う  
ウ 選挙をする・される  
エ 税金を納める

問8 下線部 f について、年齢・障がいの有無・性別・国籍などに関係なく、すべての人が使いやすくなるように作られた製品や生活環境を何というか答えなさい。

3 太朗さんと花子さんのクラスは、自分でテーマを決めて調べ学習をおこないました。次の年表A・Bは、太朗さんと花子さんがそれぞれ設定したテーマに沿って作成したものです。あとの問1～問6に答えなさい。

【年表A】

太朗さんのテーマ ( I )	
縄文	(伝わる)
a 弥生	伝わる 高床倉庫に保存
古墳	
飛鳥	税として租(収穫高の3%)を納める
奈良	
b 平安	
鎌倉	西日本で二毛作の普及 鉄製農具や牛馬の利用
室町	品種改良が進む 肥料の進歩で収穫が安定
c 江戸	税として収穫高の半分を納める

【年表B】

花子さんのテーマ ( II )	
縄文	
弥生	
古墳	伝わる
飛鳥	d 聖徳太子が法隆寺を建てる
奈良	e 大仏づくりが始まる 鑑真が来日する
平安	最澄と空海が唐から帰国する 浄土信仰が広まる
鎌倉	f 新しい教えが誕生
室町	
江戸	宗門改め

問1 年表を参考にして、太朗さんと花子さんのテーマ ( I ) ・ ( II ) の組合せとして最も適当なものを、次のア～エのうちから1つ選び、記号で答えなさい。

- ア I—綿花づくり      II—儒教      イ I—米づくり      II—仏教  
ウ I—米づくり      II—儒教      エ I—綿花づくり      II—仏教

問2 下線部 a と下線部 c の時代に関するものを、次のア～エから1つずつ選んで、記号で答えなさい。

ア



イ



ウ



エ



問3 下線部 b の時代に、次の和歌をよんだ人物は誰か答えなさい。

この世をば わが世とぞ思ふ(う) もち月の かけたることも なしと思へ(え)ば

問4 下線部 d について、聖徳太子がめざした天皇中心の国づくりは、誰がどのように受けついでいったか説明しなさい。

問5 下線部 e について、大仏をつくる命令を出した天皇は誰か答えなさい。

問6 下線部 f について、新しい教えに含まれないものを、次のア～エから選んで、記号で答えなさい。

- ア 日蓮宗      イ 浄土真宗      ウ 臨済宗      エ 真言宗

受験番号

# 社会解答用紙

(5枚のうちの5枚め)

中B方式
令3

1	問1		問2		問3		問4		1		
	問5								2		
	問6	(1)								3	
		(2)								4	
										5	
										6	1

2	問1		問2						1	
	問3	(1)	(2)				(3)		2	
	問4		問5		問6	の尊重			3	
	問7		問8						4	
									5	
								6		
								7		
								8	2	

3	問1		問2	a	c				1	
	問3								2	
	問4								3	
									4	
	問5				問6				5	
								6	3	

合	
計	