

※解答はすべて解答用紙に記入しなさい。

1 次のA～Dの文章を読んで、下の問いに答えなさい。

A 平治の乱に敗れて①伊豆に流されていた源頼朝は、伊豆の豪族（ 1 ）氏や東国の武士たちとともに平氏をたおそうと兵をあげました。源氏は平氏との戦いに次々と勝ち、ついに②壇ノ浦で滅ぼしました。

B ドイツの憲法を学んだ（ 2 ）は、日本の初代内閣総理大臣となり、帝国議会（国会）の開設を目指しました。帝国議会は、天皇中心であり、貴族院と衆議院から成り立っていました。

C 徳川家は、大名を③三つに分けて工夫して配置しました。そして、武家諸法度という決まりをつくり、領地と江戸の行き来をさせる（ 3 ）を制度として決めました。

D 藤原京の後、奈良に新しい都である（ 4 ）がつくられ、大いに栄えました。しかし、地方の人々の生活は厳しく、④いねのとれ高のおよそ3%を納める税などの負担にたえかねて、逃げ出す者もいました。

問1 文中の（ 1 ）～（ 4 ）に入る語句を答えなさい。

問2 A～Dを古い順番にならべかえなさい。

問3 下線部①と②について、現在の県名の組み合わせとして正しいものを次の中から1つ選び、記号で答えなさい。

- (ア) ① 静岡県 ② 山口県 (イ) ① 静岡県 ② 兵庫県  
(ウ) ① 神奈川県 ② 山口県 (エ) ① 神奈川県 ② 兵庫県

問4 下線部③について、外様大名はどのようなところに配置されたかを、説明しなさい。

問5 下線部④について、この税を何というか、答えなさい。

問6 Dの文章と一番関係が深いものを、次の写真の中から1つ選び、記号で答えなさい。



2 次の文章は新聞記事の一部である。これを読んで、下の問いに答えなさい。

2020年の東京五輪開幕まで2年を切った。聖火リレーや競技の日程、パラリンピックを含めた大会マスコットの名前などが相次いで発表され、メインスタジアムとなる新国立競技場の工事も急ピッチで進んでいる。

聖火リレーは（ 1 ）からの復興を目指す福島県を起点に、日本列島をほぼ時計回りで一巡する。競技は開会式2日前の7月22日にやはり福島県で行われるソフトボールの日本戦を皮切りに、33競技、339種目のスケジュールが決まった。今後はボランティア募集や運営面での計画づくりが本格化する。万全の準備でその日を迎えたい。

(2018年7月27日付山陽新聞デジタル版より作成)

問1 文中の（ 1 ）に入る語句を答えなさい。

問2 オリンピックは「平和の祭典」とも呼ばれるが、1964年の東京オリンピック後の1972年に、日本と国交が正常化した国はどこであるか、答えなさい。

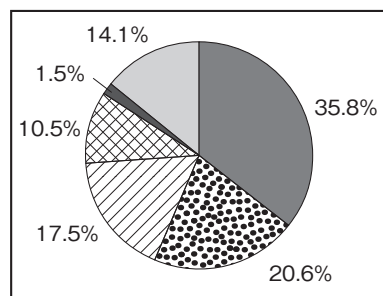
問3 1964年の東京オリンピック後の日本について説明した文章として誤っているものを次の中から1つ選び、記号で答えなさい。

- (ア) カラーテレビ・自動車・クーラーなどの家電が普及した。
- (イ) 各地で公害が発生し、公害反対運動が広がった。
- (ウ) 大阪で、日本万国博覧会が開かれた。
- (エ) 朝鮮戦争が始まり、警察予備隊がつくられた。

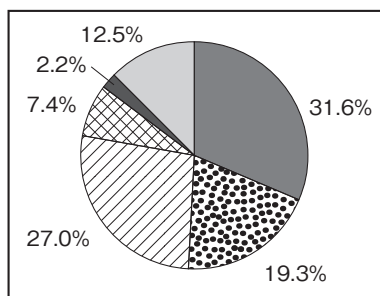
3 次の会話文を読んで、下の問いに答えなさい。

太郎：1学期に①工業のことを学んだけど、夏休みに何の研究をしたの。  
花子：夏休みに自動車工場の見学に行ったよ。  
太郎：自動車工場に見学に行きってどうだった。  
花子：最初に驚いたのは、自動車に使われている部品のほとんどが関連工場で作られていることだったよ。自動車工場ではその組み立てだけを行うんだよ。  
太郎：そうなんだね。でも部品を違うところで作ると不便じゃないのかな。  
花子：だから関連工場は自動車工場の近くへ集まっていたよ。②むだなく生産ができるみたいだよ。  
太郎：自動車工場では色々な工夫がされているのだね。工夫と言えば、これからの社会では、自動車も③環境にやさしくないといけないね。  
花子：そうだね。最近では地球環境にやさしい自動車が広く使われるようになってきているよ。  
太郎：例えばどのような自動車があるのかな。  
花子：いわゆるエコカーと呼ばれている自動車だよ。電気とガソリンを使って走る（1）カーが代表的だね。その他に最近では、水素と酸素から電気を作って走る燃料電池自動車や、太陽光で走る（2）カーの研究や開発も行われているよ。  
太郎：さらに、④資源を大切に使うために、自動車の（3）も進んでいるみたいだね。  
花子：そうだね。環境にやさしい自動車を開発するだけでなく、環境のことを考えた自動車生産を行うことも大切だね。

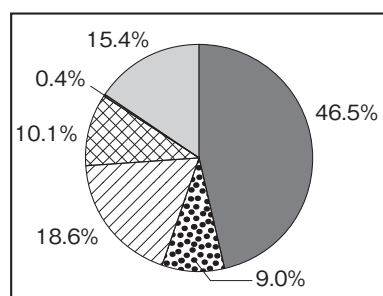
[資料1] (ア)



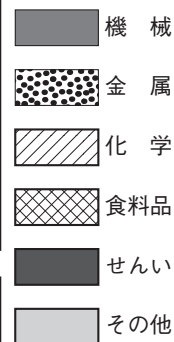
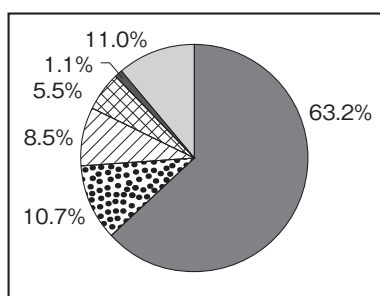
(イ)



(ウ)



(エ)



(2013年 工業統計調査)

問1 文中の( 1 )～( 3 )に入る語句を答えなさい。

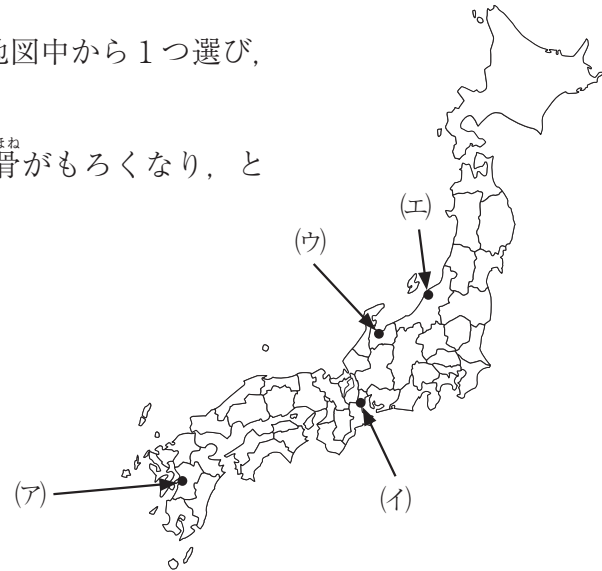
問2 下線部①について、資料1は日本の工業地域・地帯別の工業生産の割合を示している。

- i) 日本の工業地域・地帯で最も生産額が多い工業地域・地帯はどこか答えなさい。
- ii) 資料1からiで答えた工業地域・地帯を示しているものを1つ選び、記号で答えなさい

問3 下線部②について、「むだなく生産できる」とは、どのようなことか、説明しなさい。

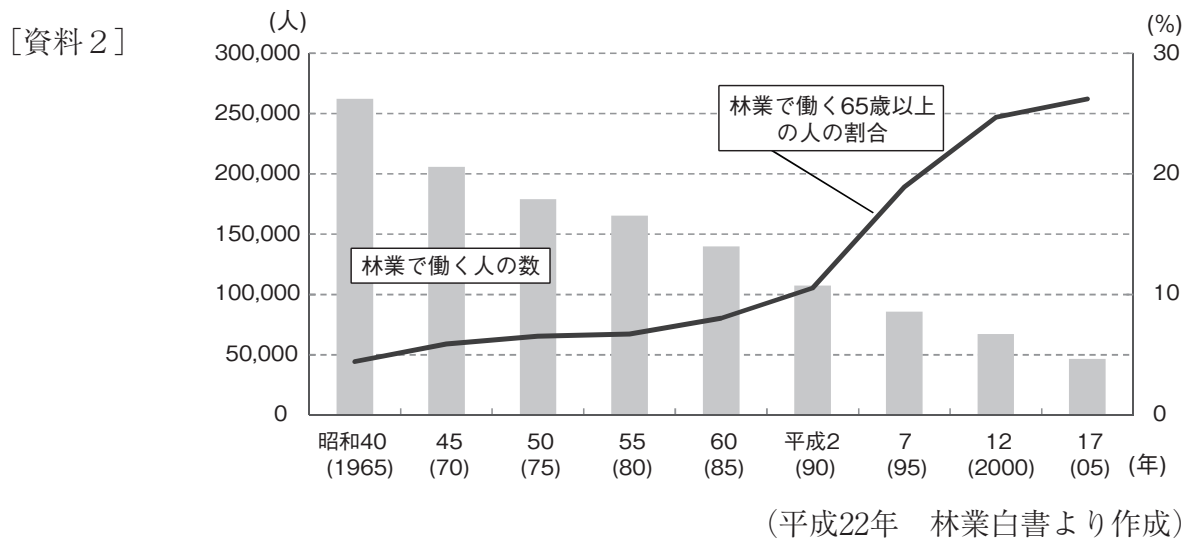
問4 下線部③について、次の文章の公害が発生した場所を地図中から1つ選び、記号で答えなさい。

「神通川上流の鉾山から出されたカドミウムが原因。骨がもろくなり、とても苦しむ。」



問5 下線部④について、日本は豊かな森林に恵まれた国である。資料2は林業で働く人についての資料です。

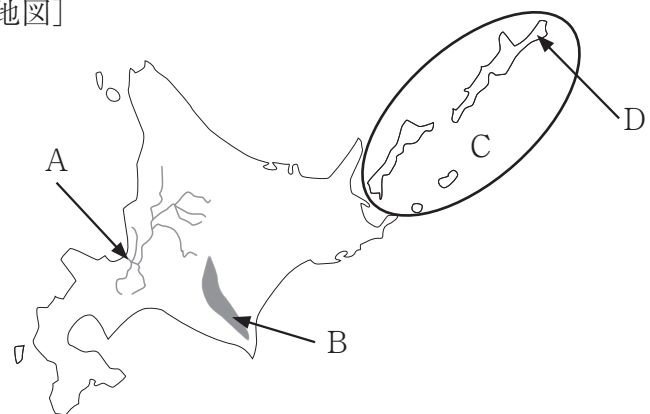
- i) 森林がはたす役割を、木材供給以外で2つ答えなさい。
- ii) 資料2から、林業で働く人はどのように変化していることがわかるか、説明しなさい。



4 次の地図を見て、下の問いに答えなさい。

問1 地図にあるAの河川とBの山脈を何というか、答えなさい。

[地図]




問2 地図にあるCの地域について、次のi)～iii)の問いに答えなさい。

- i) この地域にあるDの島を何というか、答えなさい。
- ii) この地域を何というか、答えなさい。
- iii) この地域は、日本とある国との間で領土問題が存在している。ある国の国旗を次の中から1つ選び、記号で答えなさい。




(ア)



(イ)



(ウ)

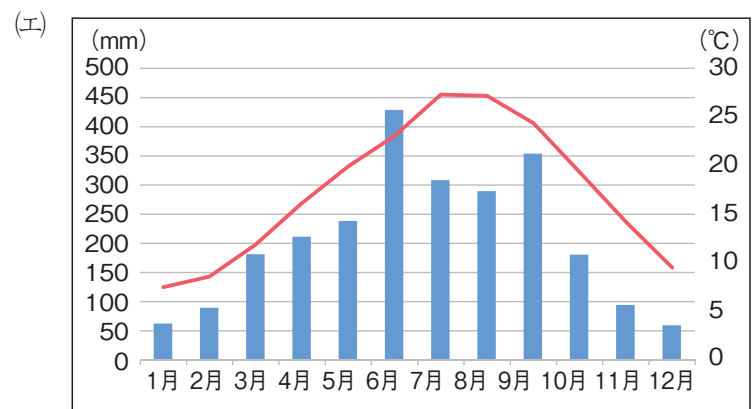
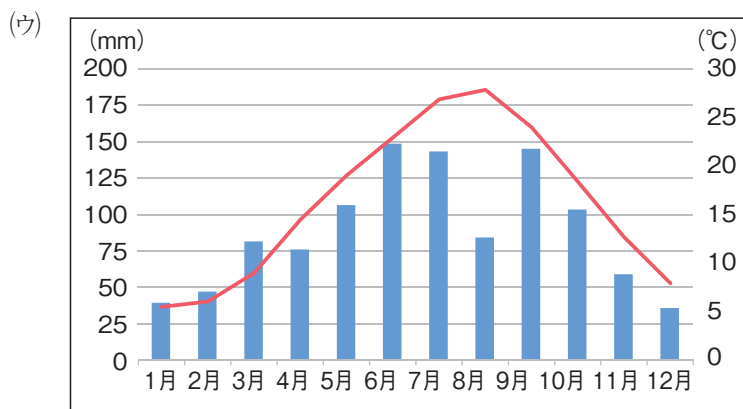
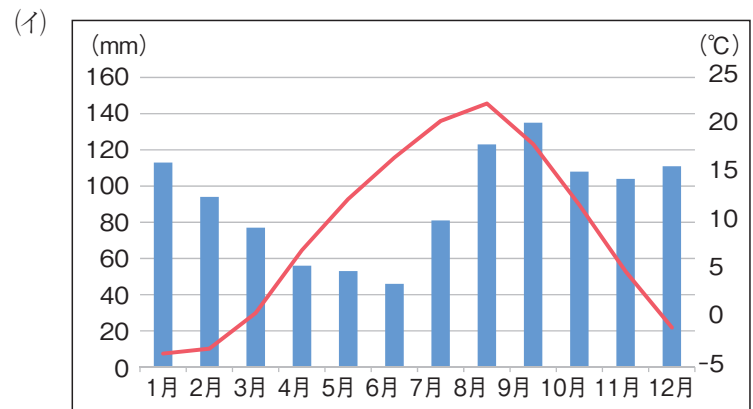
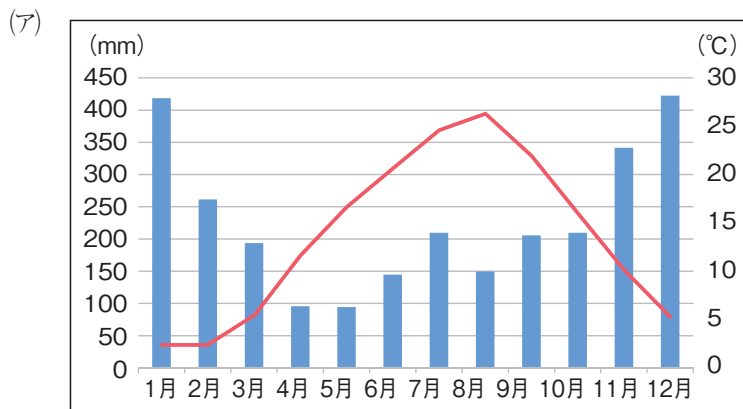


(エ)

問3 地図に示された地域にある、世界自然遺産を次から1つ選び、記号で答えなさい。

- (ア) 白神山地 (イ) 屋久島 (ウ) 知床 (エ) 小笠原諸島

問4 下の(ア)～(エ)は、札幌市(北海道)・上越市(新潟県)・高松市(香川県)・宮崎市(宮崎県)の月平均気温と降水量のグラフです。札幌市のグラフを1つ選び、記号で答えなさい。



■ 降水量 (mm)    — 平均気温 (°C)

(気象庁のホームページより作成)

問5 地図のような寒い地域にある家の工夫について、説明した文章として正しいものを次の中から1つ選び、記号で答えなさい。

- (ア) 瓦をしっくいであてている。
- (イ) 戸や窓を広くとって家の中の風通しをよくしている。
- (ウ) 屋根の角度を急にしている。
- (エ) 高く石垣を組んで、その上に家を建てている。

1	問1	1	2	3	4
	問2	→ → →			問3
	問4				
	問5				問6

1
---

2	問1	問2	問3
---	----	----	----

2
---

3	問1	1	2	3
	問2	i)		ii)
	問3			
	問4	問5	i)	
	ii)			

3
---

4	問1	A	B
	問2	i)	ii) iii)
	問3	問4	問5

4
---

合計	
----	--